

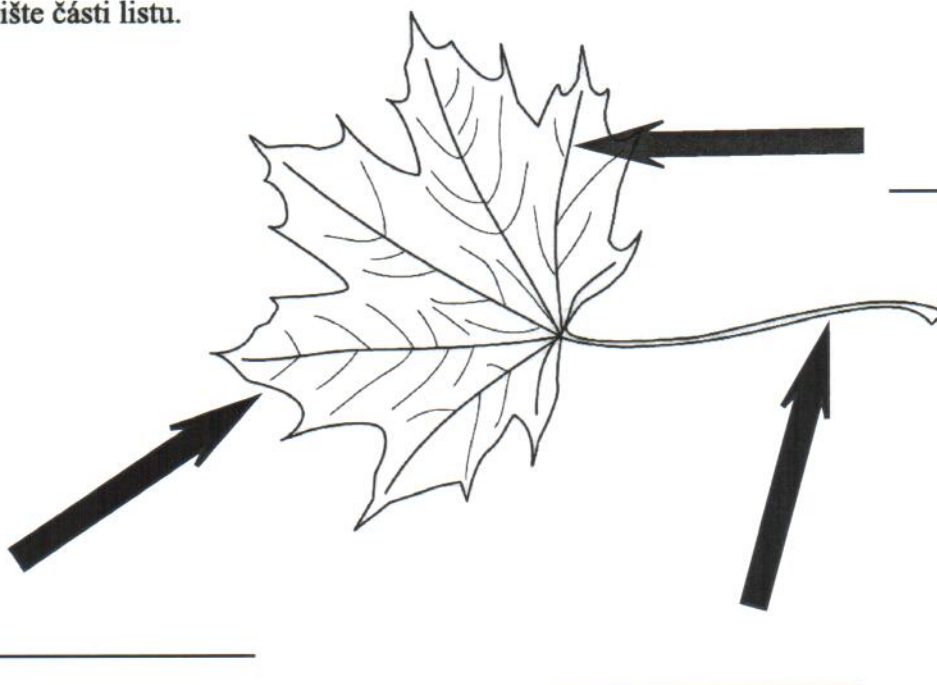


1) Určete druh dřeviny podle listu.




2) Vypište části listu.

	3
--	---



	3
--	---

2) Určete druh bylin.



	2
--	---

Napište alespoň dva druhy hmyzu, které jste viděli na hrázi.

	2
--	---

Vypište alespoň dva vrcholy Novohradských hor, které jsou viditelné z hráze Kapříkovského rybníka.

	2
--	---

Které druhy ptáků můžete vidět na hladině rybníka? Napište alespoň dva.

	2
--	---

Vypiš alespoň dvě byliny z hráze nebo okolí rybníka.

	2
--	---

Může se u Kapříkovského rybníka nebo rybníka Martin objevit orel mořský?

	1
--	---

ANO

NE

Získali jste ___ bodů z 15 možných.