

7

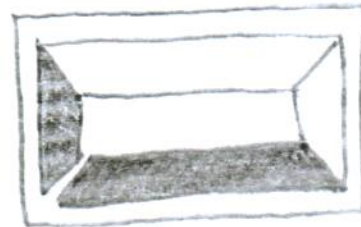
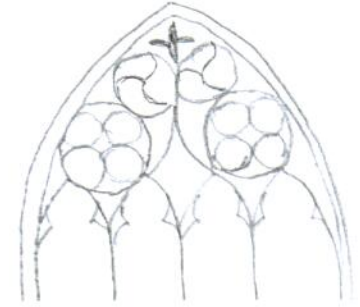



INVESTICE DO ROZVOJE VZDĚLÁVÁNÍ

Kostel sv. Mikuláše

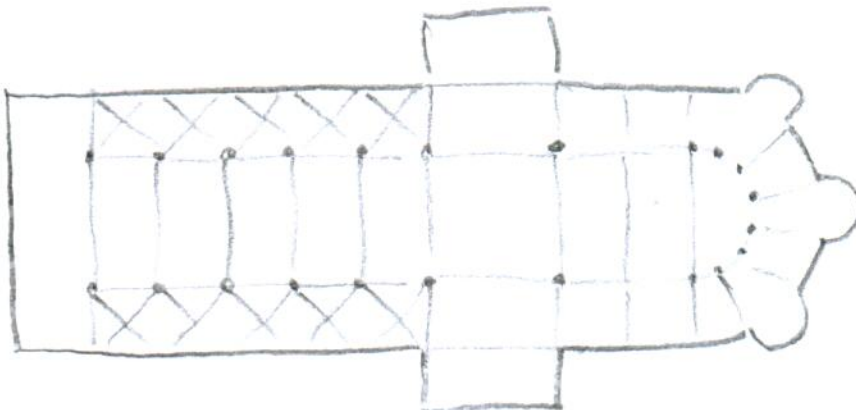
(D-VI-Ov)

Poznejte podle obrázků o jaké architektonické slohy se jedná?



Nápověda: barokní, barokní, renesanční, gotický

Doplňte světové strany do směrové růžice. Stejným směrem je postavena většina kostelů.



Loc.: 48°45'42.870"N, 14°44'15.502"E

1) Kostel v Horní Stropnici je zasvěcen sv. Mikuláši. Kdo to byl?

- K biskup
- L voják
- V učitel



2) V jakém slohu je stropnický kostel?

- N v románském a gotickém
- I v románském a renesančním
- Ě v renesančním a gotickém



3) V jakém slohu je vnitřní zařízení kostela sv. Mikuláše?

- Ř v gotickém
- D v renesančním
- Ě v barokním



4) Jaké místo je nejdůležitější v celém kostele:

- E křtitelnice
- Ř kazatelna
- Ž oltář



5) K čemu slouží sakristie?

- Á ke shromažďování věřících
- Ě určená pro varhany, sbor a hudebníky
- Ī jsou zde uchována roucha a předměty pro bohoslužbu

6) K čemu slouží kruchta (kůr)?

- S ke shromažďování věřících
- M určená pro varhany, sbor a hudebníky
- U jsou zde uchována roucha a předměty pro bohoslužbu



Presbytář je část kostela, která je vyhrazena